

國立政治大學 101 學年度大學甄選入學招生命題紙

第 1 頁

考試科目	國際現勢測驗	系別	外交學系	考試時間	4 月 14 日上午 星期六第 1 節
<p>一、 選擇題 (30 分，每題 3 分，免抄題，標明題號即可)</p> <ol style="list-style-type: none"> 1、 當前北韓領導人係何人：(A)金日成(B)金正日(C)金正恩(D)金大中 2、 馬英九總統此次出訪非洲友邦途中，曾在何處過境停留？(A)新加坡(B)德里(C)河內(D)孟買 3、 現任布吉那法索總統係何人？(A)布坎南(B)龔保雷(C)安南(D)阿賽德 4、 聯合國與阿拉伯聯盟正在調停哪一個國家的內部流血衝突？(A)敘利亞(B)沙烏地阿拉伯(C)葉門(D)約旦 5、 下列哪一國不是我國在非洲的邦交國？(A)甘比亞(B)南非(C)聖多美普林斯比(D)史瓦濟蘭 6、 第二屆核子安全高峰會在何地舉行？(A)東京(B)紐約(C)首爾(D)柏林 7、 以色列曾摧毀哪一個國家的核子設施？(A)伊朗(B)利比亞(C)埃及(D)伊拉克 8、 最近遭拔除黨內職位的重要中共幹部係何人？(A)習近平(B)汪洋(C)薄熙來(D)李克強 9、 誰贏得今年的俄羅斯總統大選？(A)普丁(B)葉爾辛(C)梅德維傑夫(D)戈巴契夫 10、 林書豪係哪一支 NBA 球隊的隊員？(A)芝加哥公牛隊(B)洛杉磯湖人隊(C)波士頓塞爾蒂克隊(D)紐約尼克隊 <p>二、 簡答題 (20 分，每題 4 分)</p> <ol style="list-style-type: none"> 1、 金磚五國除俄羅斯外，還有哪幾個國家？ 2、 在阿拉伯之春的民主抗爭活動有哪幾個阿拉伯國家的領導人被迫下台或遭殺害？ 3、 列舉 4 個和阿富汗邊界相鄰的國家？ 4、 我國正積極爭取參與的政府間國際組織係哪兩個？ 5、 哪兩個重要的西方民主國家將在今年舉行總統大選？ <p>三、 問答與申論 (50 分，第一至三題每題 10 分，第四題 20 分)</p> <ol style="list-style-type: none"> 1、 處理涉外事務時，良好的外國語言能力是必備的條件。在聯合國六種官方語言中，除了已熟悉的中文與英文外，你最想學習的語言為何？請敘明理由。 2、 請寫出任一諾貝爾和平獎得主及其獲獎事蹟。 3、 國際社會除國家外，尚有許多政府間國際組織活躍期間，請舉出任一中華民國已加入的政府間國際組織，並說明該組織的重要性。 4、 試申論近期引發國內熱烈討論之「美牛」問題的始末、並提出你個人對此問題的看法。 					
備 註	試 題 隨 卷 繳 交				
命 題 委 員 ：	(簽 章) 年 月 日				

命題紙使用說明：1.試題將用原件印製，敬請使用黑色墨水正楷書寫或打字。

2.書寫時請勿超出格外，以免印製不清。

3.試題由郵遞者請以掛號寄出，以免遺失而示慎重。

國立政治大學 102 學年度大學甄選入學招生命題紙

第 1 頁，共 2 頁

考試科目	國際現勢測驗	系別	外交學系	考試時間	4 月 13 日上午 星期六第 1 節
------	--------	----	------	------	------------------------

※所有題目均不需抄題，但須註明題號。

一、單選題：(50 分)

1. 下列敘述何者為非？ ①德國現任總理為 Angela Merkel；②美國現任國務卿為 John Curry；③俄羅斯現任總理為 Dmitry Medvedev；④東南亞國協秘書長為 Le Luong Minh。
2. 下列有關都市與事件之敘述，何者為真？ ①南非德班是該國與巴西、俄羅斯、印度、中國大陸「金磚 5 國」2013 年高峰會議之所在地；②巴西聖保羅將是 2016 年夏季奧林匹克運動會的主辦城市；③泰國曼谷將是 2017 年夏季世界大學生運動會的主辦城市；④亞太經濟合作 (APEC) 2013 年高峰會將於澳洲坎培拉舉行。自
3. 下列那個國家組合尚未簽署自由貿易協定(或類似名稱之相關協定)？ ①南韓-美國；②日本-新加坡；③中華民國-巴拿馬；④日本-南韓。
4. 甲:南太平洋區域漁業管理組織(SPRFMO)、乙:(朝鮮半島)六方會談、丙:上海合作組織(SCO)、丁:世界貿易組織(WTO)，依首次成立先後排出的正確組合順序為？ ①甲乙丙丁；②甲丙丁乙；③丙丁甲乙④丁丙乙甲。
5. 下列關於中國共產黨第十八次代表大會的人事異動何者為非？ ①外交部長由王毅出任；②中共中央外事工作領導小組秘書長兼辦公室主任由楊潔篪出任；③國務院台灣事務辦公室主任由張志軍出任；④國防部長由梁光烈出任。
6. 自本年 4 月上旬觀之，下列有關各國之敘述何者為非或最不精確？ ①塞浦路斯金融危機規模雖相對不大，但可用來檢驗歐元區紓困機制的有效性；②緬甸民主雖已萌芽，但報禁與國外媒體長駐等箝制措施仍未鬆動；③委內瑞拉即將舉行總統補選，該國目前是由副總統 Nicolas Maduro 代理總統；④當選新教宗的 Jorge Bergoglio 在阿根廷重要經濟及同性戀婚姻等議題上或與現任總統 Cristina Fernandez 不合。
7. 下列關於聯合國大會於本年 4 月 2 日以通過武器貿易條約之敘述，何者為非或最不精確？ ①目的是有效統計及提升國際傳統武器交易的流程；②主要的談判交涉期有近十年之久；③俄羅斯、印度、中國大陸均投棄權票；④沒有設立強制條款，而是要求簽約方以國內立法的方式以符合條約內容。
8. 下列關於非洲內戰之敘述何者為非？ ①中非共和國反抗軍 Seleka 於本年 3 月下旬占領首都並重組政府；②前述事件中，本年 1 月簽署之自由市協議 (Libreville Agreement) 原定由總統 Francois Bozize 組成全國團結政府，指派在野人士出任總理，並於 3 年內舉行總統選舉；③馬利共和國政府在法國的協助下，目前逐步攻克被伊斯蘭反抗軍占領的大城；④前述事件中，法國已向聯合國安全理事會表示將在戰事底定後完全撤軍，請聯合國維和部隊進駐。
9. 下列關於敘利亞內戰之敘述何者為非或最不精確？ ①美國質疑俄羅斯及伊朗出售武器予敘利亞反抗軍；②聯合國於 2012 年派遣特使 Lakhdar Brahimi 斡旋無效；③可能使黎巴嫩或約旦等敘利亞鄰國爆發教派衝突；④目前難民人數應已超過百萬。
10. 下列敘述何者為非或最不精確？ ①肺結核致死率已降低，不再是奪走人命的主要國際傳染病；②全球人口成長已經導致部分地區水資源的衝突，且與兒童死亡率、都市貧窮等問題息息相關；③聯合國大會已可見因人道理由而進行對特定國家內部干涉的決策；④引起當前國際能源問題的主因之一是開採技術尚不足以開發地球或附近星體所蘊藏的能源。


二、填充題：(20 分)

下列敘述與我國當前的外交政策或情勢有關，請以中文或英文填入最適當答案；請注意各題答案不會重複：「我國自從 2008 年 5 月馬英九政府起，在外交上奉行___1.___的政策理念，在臺海兩岸基本互信的基礎下進行___2.___（亦即不再進行惡性競爭式的「金錢外交」），而是提倡經貿外交、文化外交和形象外交等作法，節省國庫支出也提升國際形象；對於美、日及包含中國大陸在內的錯綜關係，則是依循___3.___的基調處理之。目前我國邦交國分布最多的洲是___4.___。」

(後續)

三、簡答題：請依照以下漫畫，每題以一百個中文字為限，首先說明所涉事件本身為何，其次說明漫畫作者本身之對該事件之詮釋為何（30分）

1.




(The Khaleej Times, 2013.3.30)

2.



(The Khaleej Times, 2013.3.28)

3.



(Macau Daily Times, 2012.9.21)

考試科目	國際現勢測驗	系別	外交學系	考試時間	四月十二日 上午 星期六 第一節
------	--------	----	------	------	---------------------

※所有題目均不需抄題，但必須標註題號。

一、單選題：(50分)

- 韓劇近年來在台灣引起熱潮，而韓國本身也曾是戰場。以下有關韓戰的敘述何者為非？① 發生在南、北韓之間，美國支持南韓；② 由聯合國授權的多國部隊，對抗北韓及中共；③ 發生於 1950 年至 1953 年；④ 當時進行的戰爭方式以游擊戰為主。
- 以下有關各國現任外交事務人事與職務之配對，何者為真？① 美國國家安全顧問為 Condoleezza Rice；② 日本外相為岸田文雄；③ 俄羅斯總理為 Vladimir Putin；④ 英國首相為 Tony Blair。
- 有關我國當前參與政府間國際組織之描述，何者為真？① 目前以“Taipei, China”之名稱參與世界衛生大會；② 目前以觀察員身份參與世界貿易組織；③ 目前以仲會員身份參與世界民航組織；④ 目前以“Chinese Taipei”之名稱參與亞太經濟合作會議。
- 近期中國共產黨內部進行政治風氣整肅，主其事者係中共中央紀律檢查委員會書記：① 王岐山；② 習近平；③ 李克強；④ 周永康。
- 近來東亞情勢由於釣魚台主權歸屬問題而日趨緊張，以下相關敘述何者為真？① 當前爭端肇因於安倍晉三政府將釣魚台國有化；② 中國大陸於 2013 年 3 月間改制國家海洋局，以因應此爭端；③ 中國大陸外交部於 2013 年 11 月宣告設立東海防空識別區；④ 我國與日本於 2013 年 4 月達成台日漁業協定，同意讓渡主權給日本以換取漁權。
- 以下有關聯合國的敘述何者為真？① 至 2014 年 3 月止，共有 196 個會員國；② 安全理事會共有 15 個會員國，其中有 6 國為常任理事國；③ 聯合國正式成立於 1946 年；④ 《聯合國憲章》第 23 條常任理事國之一明載為中華民國。
- 有關當前我國之外交關係，以下敘述何者為非？① 以 2014 年 3 月為準，我國共有 22 個邦交國；② 美國於 1972 年通過《台灣關係法》，以規範斷交後的美台關係；③ 我國邦交國多數位於拉丁美洲；④ 我國駐歐盟代表處位於比利時。
- 關於當前克里米亞危機的敘述，以下敘述何者為非？① 是先前烏克蘭親歐盟示威事件之延續；② 歐洲各國對於途經烏克蘭而由俄羅斯供應之天然氣有所依賴，且消費數量以德國最高、義大利次之、英國第三；③ 克里米亞位置重要且具戰略意義，於 1850 年代引起英、法、俄等國間之戰爭，南丁格爾當時即曾投身俄國軍營照顧傷患；④ 烏克蘭臨時總統為圖其諾夫。
- 以下關於近期發生之世界大事的描述，何者為真？① 印度自 4 月 7 日開始，進行國會選舉，將歷時 1 個月，最大反對黨印度人民黨可能成為國會最大黨；② 美國總統歐巴馬將於 4 月訪問日本、南韓、及中國大陸等亞洲國家；③ 中國大陸近期在山東茂名發生與環保議題相關之抗議事件，造成群眾傷亡；④ 北韓自 2 月底挑起飛彈危機，抗議美、日、韓三國軍事演習。
- 以下有關美國第一夫人蜜雪兒歐巴馬於 3 月間訪問中國大陸之敘述何者為誤？① 訪問為期 7 日，走訪北京、西安、及成都；② 美國總統歐巴馬同一時段則於丹麥海牙參加國際會議；③ 蜜雪兒歐巴馬於北京大學演講時強調言論自由；④ 中國大陸方面由國家主席習近平夫人彭麗媛女士接待，符合外交禮儀。

二、解釋名詞(50分；如為縮寫，請先寫出英文全稱)

- Exercise Key Resolve 2014
- Trans-Atlantic Trade and Investment Partnership
- RCEP
- Free Trade Agreements
- The Millennium Goals of UN

備	註	試題隨卷繳交
---	---	--------

國立政治大學 104 學年度大學甄選入學招生命題

第 1 頁

考試科目	國際現勢測驗	系別	外交學系	考試時間	四月十八日 上午 星期六 第一節
------	--------	----	------	------	---------------------

※所有題目均不需抄題，但必須標註題號。

一、單選題：(50 分)

- 有關各國領導人，以下何者為非：(1)中國國家主席習近平；(2)俄羅斯總統普京(Vladimir Putin)；(3)印度總統莫迪(Narendra Modi)；(4)巴西總統羅賽芙(Dilma Rousseff)。
- 有關我國邦交國，以下何者不在南太平洋地區：(1)吉里巴斯(Kiribati)；(2)諾魯共和國(Republic of Nauru)；(3)聖多美普林西比(Sao Tome and Principe)；(4)所羅門群島(Solomon Islands)。
- 有關各國領土大小比較，以下何者正確：(1)日本>越南>泰國>朝鮮半島(南北韓)；(2)朝鮮半島(南北韓)>日本>泰國>越南；(3)泰國>朝鮮半島(南北韓)>日本>越南；(4)泰國>日本>越南>朝鮮半島(南北韓)。
- 有關各國人口多寡比較，以下何者正確：(1)印尼>日本>菲律賓>越南；(2)日本>印尼>越南>菲律賓；(3)日本>印尼>菲律賓>越南；(4)印尼>日本>越南>菲律賓。
- 有關各國貨幣價值比較，以下何者正確：(1)美元>英鎊>加拿大元>澳大利亞元；(2)英鎊>美元>澳大利亞元>加拿大元；(3)美元>英鎊>澳大利亞元>加拿大元；(4)英鎊>美元>加拿大元>澳大利亞元。
- 有關中東局勢，以下何者為非：(1)「伊斯蘭國」(IS)毀壞伊拉克北部獲聯合國教科文組織列為世界遺產的古城「哈特拉」(Harta)；(2)西非獅子山共和國伊斯蘭武裝叛亂團體「波可哈蘭」(Boko Haram)，宣誓效忠伊斯蘭國(IS)；(3)埃及為了報復 21 名埃及人遭到「伊斯蘭國」(IS)斬首，派遣戰機飛往利比亞轟炸「伊斯蘭國」(IS)分支的軍事目標；(4)約旦為了報復該國飛官遭到「伊斯蘭國」(IS)「火刑」，處死恐怖組織成員回應。
- 有關東歐局勢，以下何者為非：(1)原屬烏克蘭的克里米亞於 2014 年 3 月獨立，隨後申請加入俄羅斯聯邦；(2)烏克蘭於 2014 年 3 月與歐盟簽署「歐烏聯合協定」(EU-Ukraine Association Agreement)；(3)美歐因克里米亞事件對俄羅斯制裁，引發俄羅斯貨幣盧比暴跌；(4)因克里米亞事件，俄羅斯遭 G8 其他 7 國決議暫停其於 G8 成員國的地位。
- 有關東北亞局勢，以下何者為非：(1)美國駐南韓大使李模楷(Mark Lippert)於 3 月在南韓參與活動時，遭南韓激進人士刺傷；(2)美韓於 3 月初進行代號為「關鍵決斷」及「鷓鷹」的年度大規模軍事演習；(3)北韓於上述演習前發射短程彈道飛彈，且揚言對美國和南韓發動「無情的攻擊」；(4)北韓現任領導人為金正日。
- 有關南海局勢，以下何者為非：(1)目前中華民國、中國大陸、菲律賓、越南、馬來西亞及汶萊六方宣稱擁有南沙群島全部或部分島嶼的主權；(2)中國大陸在所控制的永暑礁建島，已超越我方所控制的太平島，成為南沙群島第一大島；(3)中國大陸近來在南海區域曾與菲律賓及越南發生過有關領土議題的衝突；(4)中國大陸設立三沙市，隸屬廣東省，下轄西沙、中沙及南沙群島的島礁及其海域。
- 有關亞太經合會(APEC)描述，以下何者為非：(1)2014 年中國大陸為主辦國；(2)我方亦為該組織成員之一；(3)我方以「台澎金馬關稅領域」名稱入會；(4)該組織每年召開各成員經濟體領袖峰會。

二、解釋名詞：(50 分；如為縮寫，請先寫出全稱)

- 一帶一路
- 亞投行
- UN
- BRICS
- TPP

備註	試題隨卷繳交
----	--------

考試科目	國際現勢測驗	系別	外交學系	考試時間	四月十六日 上午 星期六 第一節
------	--------	----	------	------	---------------------

一、單選題：40%

1. 歐盟目前的會員國數為：(1) 15；(2) 20；(3) 25；(4) 28。
2. 下列何國不是中華民國邦交國：(1) 貝里斯；(2) 帛琉；(3) 哥斯大黎加；(4) 巴拉圭。
3. 下列何者非美國 2016 總統大選共和黨黨內初選候選人：(1) 克魯茲(Ted Cruz)；(2) 川普(Donald Trump)；(3) 魯比歐(Marco Rubio)；(4) 桑德斯(Bernie Sanders)。
4. 有關國家與首都的敘述何者為非：(1) 緬甸—仰光；(2) 利比亞—的黎波里；(3) 衣索比亞—阿迪斯阿貝巴；(4) 寮國—永珍。
5. 有關跨太平洋夥伴協定(TPP)描述，下列何者為非：(1) 目前簽約國有 12 個；(2) 為中國大陸所主導的區域經濟整合協定；(3) 我國正積極推動加入；(4) 此協定標榜高品質與高標準貿易。
6. 近年發動多起恐怖攻擊的伊斯蘭國(The Islamic State)其目前主要控制範圍為：(1) 沙烏地阿拉伯、黎巴嫩部分地區；(2) 利比亞、突尼西亞部分地區；(3) 伊拉克、敘利亞部分地區；(4) 伊朗、阿富汗部分地區。
7. 英國將於今年六月舉行是否脫離歐盟的公投。以下有關英國與歐盟的關係何者為真：(1) 英國為歐洲共同體(EC)創始會員國；(2) 英國有意脫離歐盟主要是因為欲脫離申根區以捍衛國家邊界；(3) 英國首相卡麥隆(David Cameron)在今年二月與歐盟領導人達成協議讓英國在歐盟內享有特殊地位；(4) 英國為歐元區內最重要金融中心。
8. 下列關於中南美洲的敘述何者為真：(1) 拉美國家因民族性較開放，多數國家已開放同性婚姻；(2) 委內瑞拉因能源短缺而宣布在今年四月和五月公務員週休三日；(3) 智利日本裔前總統藤森謙也的長女藤森惠子在選舉中大幅領先，有可能成為該國總統；(4) 阿根廷總統羅賽芙(Dilma Rousseff)任命因涉貪遭起訴的前總統魯拉(Luiz Inacio Lula da Silva)擔任幕僚長，使其享有司法豁免權，擴大了政治風暴。
9. 下列關於非洲的敘述何者為真：(1) 撒哈拉沙漠以南地區之平均經濟成長恐低於全球平均，為本世紀首見；(2) 承前述，該地區平均經濟成長偏低的主因是國際畜牧業市場規模縮小；(3) 最近迦納、莫三比克、南蘇丹等三國向國際貨幣基金會(IMF)尋求紓困；(4) 最近因南非小麥出口減緩，導致鄰國糧食略顯短缺。
10. 下列關於聯合國的敘述何者為非：(1) 維和部隊人員於中非共和國及剛果等地犯下多起性侵案件；(2) 聯合國安理會三月上旬通過堪稱近年來對北韓最嚴厲制裁之第 2270 號決議；(3) 為處理歐洲難民問題，聯合國難民高級專員(UNHCR)親善大使安潔莉娜裘莉(Angelina Jolie)近日拜會希臘總理，盼其能盡快提出具體方案；(4) 聯合國秘書長潘基文將於明年二月一日結束任期，目前八位候選人中有半數是女性。

二、問答題：60%

1. 日本防衛大臣中谷元基將於本年四月下旬出訪的東南亞及南亞國家中，較具戰略意義的是哪兩國？(10%) 一般研判其出訪那兩國的主要目的為何？(20%)
2. 試述歐洲自 2015 年面臨的難民危機原因為何？(30%)

備註	試題隨卷繳交
----	--------

國立政治大學 106 學年度大學甄選入學招生考試

第 1 頁，共 2 頁

考試科目	國際現勢測驗	系別	外交學系	考試時間	四月十五日 上午 星期六 第一節
------	--------	----	------	------	---------------------

一、選擇題 (52 分，每題 4 分，請標明題號與答案)

1. 以下哪個國家不是歐盟會員國？
(A) 拉脫維亞 (B) 塞浦路斯 (C) 馬爾他 (D) 盧森堡
2. 菲律賓總統杜特蒂上台後屢遭批評違反人權，最主要是由於他推行什麼政策？
(A) 掃毒 (B) 掃黃 (C) 反恐 (D) 防疫
3. 關於國際貨幣基金會(IMF)下列何者敘述為真？
(A) 總部位於紐約 (B) 財源來自聯合國 (C) 主要工作為貸款協助開發中國家經濟發展
(D) 成員國代表為各國財經總長
4. 關於「博科聖地」(Boko Haram) 下列何者敘述為真？
(A) 是尼日與奈及利亞境內最主要的恐怖組織 (B) 是南非東部獲聯合國教科文組織批准的世界文化遺產城市之一 (C) 是中東地區第二大的石油公司 (D) 是伊斯蘭教僅次於耶路撒冷及麥加的第三大聖城
5. 請問當前美國川普(Donald J. Trump)政府的國務卿為何人？
(A) Rex Tillerson (B) Stephen J. Yates (C) Reince Priebus (D) Ted Cruz
6. 有關聯合國維和部隊的現狀下列何者為真？
(A) 為聯合國聘僱的民間傭兵 (B) 任務僅限於監督停火 (C) 支出由駐在國承擔
(D) 美國為最大出資者
7. 請問歐盟與土耳其訂立的難民協議內容下列何者為非？
(A) 非法進入歐盟的難民將遣返土耳其 (B) 歐盟有條件接受來自土耳其的合法難民
(C) 僅針對敘利亞籍難民(D) 不合資格的難民將轉往沙烏地阿拉伯收容
8. 關於委內瑞拉總統馬杜羅(Nicolás Maduro Moros)最近牽涉到的政治事件下列何者為非？
(A) 美洲國家組織秘書長阿爾馬格羅(Luis Almagro Lemes)宣稱委國的民主憲政遭到破壞 (B) 委國國會通過決議支持阿爾瑪格羅前述之立場 (C) 馬杜羅認為委國國會因之前藐視最高法院而處於非法狀態 (D) 馬杜羅因支持美國總統川普打擊跨國販毒問題而與之交好

國立政治大學 106 學年度大學甄選入學招生考試

第 2 頁，共 2 頁

考試科目	國際現勢測驗	系別	外交學系	考試時間	四月十五日 上午 星期六 第一節
------	--------	----	------	------	---------------------

9. 請問據稱於本年 4 月 9 日前向法國「公民社會」繳械結束武裝鬥爭的分離主義團體為何？
 (A) 西班牙的分離組織埃塔(Eta) (B) 剛果共和國的加丹加國 (Katanga) (C) 赤道幾內亞的伯約科島自覺運動組織 (Movement for the Self-Determination of Bioko Island) (D) 摩洛哥的波利薩里奧陣線(Polisario Front)
10. 中亞近年飽受水資源缺乏之苦，請問下列何者位於水脈上游未受影響？
 (A) 哈薩克 (B) 土庫曼 (C) 塔吉克斯坦 (D) 烏茲別克
11. 下列何國在政治上最不親美國？
 (A) 約旦 (B) 科威特 (C) 以色列 (D) 黎巴嫩
12. 有關東南亞國家協會(ASEAN) 下列何者敘述為真？
 (A) 本年輪值主席國為菲律賓 (B) 第三屆東協財長與經長聯席會議甫於菲律賓宿霧舉行 (C) 目前由菲律賓、越南、馬來西亞聯手與中國大陸主談南海行為準則的架構草案 (D) 東協設有政治安全、經濟、社會文化三個共同體
13. 關於近期俄羅斯的外交政策與作法下列何者為非？
 (A) 認為美軍於 4 月上旬轟炸敘利亞空軍基地一事已超過俄國忍受限度，若再發生必將反擊 (B) 前述轟炸事件導致美國取消其國務卿於 4 月 12 日訪問俄羅斯 (C) 去年底曾驅逐卅多名美國外交官以報復時任美國總統歐巴馬(Barack Obama)對俄制裁與反制措施 (D) 強調繼續同中國大陸進行全方面戰略互動

二、簡答題 (各題請以 80 字內簡要解釋或回答，18 分，每題 6 分)

1. 中國大陸的「廿一世紀海上絲綢之路」倡議最近為何在澳洲似乎受到挫折？
2. 蘇格蘭第二次獨立公投目前的進展為何？
3. 有人說美國川普總統採取孤立主義的外交政策。請簡評之。

三、申論題 (30 分)

1. 日本政府近期通過一系列安全保障法案，請簡述安保法案的內容及周邊鄰國的反應。另請就你的觀點，論述新安保法案對東亞安全關係的影響。

備註

試題隨卷繳交

國立政治大學 107 學年度大學個人申請入學招生命題紙

第 1 頁，共 2 頁

考試科目	國際現勢測驗	系別	外交學系	考試時間	四月廿二日 星期日	上午 第一節
------	--------	----	------	------	--------------	-----------

一、 選擇題 (單選題、共 40 分、每題 4 分、答案卷僅標明題號與答案即可)：

- () 若根據正式會員數目，將 A.歐洲聯盟(EU)、B.非洲聯盟(AU)、C.東南亞國家協會(ASEAN)、D.美洲國家組織(OAS)由多至少排列，則正確答案應為 ①DCBA；②BADC；③BACD；④BDAC。
- () 若根據成立年代，將 A.上海合作組織(SCO)、B.世界衛生組織(WHO)、C.歐亞經濟聯盟(EAEU)、D.北大西洋公約組織(NATO)由老至新排列，則正確答案應為 ①ACBD；②BDAC；③DBAC；④CABD。
- () 下列國家與行政首長的搭配，何者為非？ ①南非-M. Cyril Ramaphosa；②加拿大-Stephen Harper；③馬來西亞-Abdul Razak；④菲律賓-Rodrigo "Rody" Roa Duterte。
- () 梵諦岡教宗方濟各(Pope Francis)出身自何國樞機主教？ ①阿根廷；②義大利；③法國；④智利。
- () 巴黎氣候協定簽署後，各國去年 11 月於何國進行相關大規模集會？ ①德國；②法國；③日本；④美國。
- () 下列關於日本國防力量與政策的敘述何者為非？ ①海上自衛隊甫成立「水陸機動團」，近似我國的海軍陸戰隊；②海上自衛隊有五艘能搭載直升機的「準航艦」；③極重視西南諸島的機動能力及防衛能力；④2018 年度國防預算再創新高，連續 6 年增加國防開支。
- () 下列關於近期南海情勢何者為非？ ①中共人民解放軍在本月進行有史以來最大規模軍事演習；②美國航艦羅斯福號本月也在南海巡弋；③菲律賓堅持國際仲裁庭的裁決，進一步靠向美國；④越南在上個月先後與印度、孟加拉、紐西蘭、澳洲、南韓就南海問題發表聯合聲明。
- () 下列關於近期敘利亞情勢何者為非？ ①美、英、法聯軍以飛彈攻擊敘利亞軍事基地與化武設施，懲罰敘利亞政府軍對大馬士革郊區平民使用化武；②中國大陸駐美大使要求美、英、法為前述空襲負起政治責任；③俄羅斯指稱英國為前述大馬士革郊區化武攻擊的首謀；④美國國防部長稱攻擊是警告敘國領導人勿重蹈覆轍。
- () 下列關於近期美國國際貿易之敘述何者最不適當？ ①今年對超過配額的進口洗衣機和太陽能電池板的關稅課徵 30%的關稅；②啟動 201 條款及 301 條款以保護美國相關產業；③商務部在調查後決定暫緩對進口鋼鐵和鋁加徵關稅；④前國務卿提勒森(Rex Tillerson)在加徵鋼鐵和鋁關稅方面與川普有歧見。
- () 下列關於近期拉丁美洲的敘述何者為非？ ①哥斯大黎加經過二輪投票於本月選出該國史上最年輕的總統；②墨西哥總統大選活動已開始，執政黨候選人陷入苦戰；③哥倫比亞政府與全國解放軍(ELN)恢復和談；④委內瑞拉總統出席美洲高峰會(Summit of the Americas)時指控主辦國祕魯阻撓其出席並刻意降低維安層級。

二、 填充題(共 20 分、每題 5 分、不必抄題)：

- 2015 年 10 月底一架俄羅斯客機因炸彈而墜毀西奈半島(Sinai Peninsula)。當時伊斯蘭國(Islamic State)曾出面宣稱犯案，俄國則於隔月宣布暫停與_____之間的直航班機。本年 4 月 12 日終於恢復了暫停 2 年多的直航班機[請填中文國名]
- _____於 4 月 8 日舉行國會大選，反移民的右派總理奧班(Viktor Orban)獲勝，三度執政。[請填中文國名]
- 德國於 3 月 25 日以歐洲逮捕令，逮捕去年 10 月發起獨立公投，遭西班牙以叛亂、煽動叛亂罪名通緝的西班牙加泰隆尼亞自治區前主席_____。[請填中文或外文人名]
- 東協領袖高峰會 3 月 18 日在澳洲雪梨閉幕，各國雖在會議公報聲明「保護自身人民的人權」，卻未觸及最近緬甸境內已有數十萬_____人流離失所的問題。[請填中文或外民族群名]


考試科目	國際現勢測驗	系別	外交學系	考試時間	四月廿二日 星期日	上午 第一節
------	--------	----	------	------	--------------	-----------

三、簡答題:請依照以下漫畫，每題以 150 個中文字為限，首先說明所涉事件本身為何，其次說明漫畫作者本身之對該事件之詮釋為何(共 40 分、每題 20 分)：

1. Appearing in *Pittsburgh Post-Gazette*, 2018.02.13



2. Appearing in *Star Tribune*, 2018.02.27



備註 試題隨卷繳交

命題委員：

(簽章) 年 月 日

國立政治大學 108 學年度大學個人申請入學招生命題紙

第 1 頁，共 1 頁

考試科目	國際現勢筆試	系別	外交學系	考試時間	四月廿二日 星期一	上午 第一節
------	--------	----	------	------	--------------	-----------

一、 選擇題（單選題，每題 5 分，共 45 分，請在答案卷上清楚標明題號與答案）：

1. 美國總統川普與北韓領導人金正恩分別在 2018 年與 2019 年舉行過兩次會談，請問第一次跟第二次的時間及地點分別為何？
1. 五月新加坡、一月中國北京；2. 七月韓國首爾、二月泰國清邁；3. 四月馬來西亞吉隆坡、三月日本沖繩；4. 六月新加坡、二月越南河內；5. 五月印尼雅加達、一月泰國清邁
2. 一般來說，當國家之間貿易往來時有爭議時，作為世界貿易組織的成員國，他們都會傾向將爭議案藉由以下那個制度裁處？
1. DSM; 2. TRIPS; 3. TRIMs; 4. STDF; 5. UNICEF
3. 在 1964-2017 年之間哥倫比亞打了一場相當長的內戰，期間的主要叛亂團體為何？1. MEND; 2. Boko Haram; 3. UNITA; 4. FARC; 5. Islamic State
4. 北美洲在 2018 年年底時，重新調整與安排原先的貿易協定。請問原先與新的貿易協定縮寫分別為何？1. GCC-CELAC; 2. NAFTA-SICA; 3. AU-MERCOSUR; 4. ASEAN-USMCA; 5. NAFTA-USMCA
5. 2018 年諾貝爾和平獎的得主為：1. Denis Mukwege and Nadia Murad; 2. Kailash Satyarthi and Malala Yousafzai; 3. Juan Manuel Santos; 4. Ellen Johnson Sirleaf, Leymah Gbowee and Tawakkol Karman; 5. Organisation for the Prohibition of Chemical Weapons
6. 我國在今年年初時曾經被某個機構評定為某項自由度為世界第 10 名的國家，請問該項自由度為：1. 政治自由度；新聞自由度；3. 組黨自由度；4. 經濟自由度；5. 遷徙自由度
7. 印尼預計在今年四月 17 日時舉行總統大選，請問以下對印尼的描述何者為非？1. 印尼當前總統為 Joko Widodo; 2. 人口數為全世界第三；3. 建國後首任總統是 Sukarno；4. 擁有世界上最多的伊斯蘭教教徒；5. 曾經是石油輸出國家組織成員國之一
8. 以下哪一個非聯合國永續發展目標(Sustainable Development Goals, SDGs)之一？1. 性別平等；2. 高品質教育；3. 清潔能源；4. 政治民主；5. 零飢餓
9. 以下對「英國脫歐」的陳述何者為真？1. 是在首相 James Brown 時舉辦公投；2. 贊成脫歐者的比例達 65.54%；3. 在最近一次投票中，脫歐協議草案被上議院否決；4. 當前安排脫歐協議的首相為工黨的 Theresa May；5. James Brown 與 Theresa May 分屬不同黨籍

二、 簡答題（共 55 分）：

1. 聯合國安全理事會一共有 15 個成員國，其中包括五個常任理事國跟 10 個非常任理事國（25 分）：
 - (1) 請列出五個常任理事國的英文國名（5 分）；
 - (2) 截至四月中為止，10 個非常任理事國分別是以下幾個國家：Belgium, Côte d' Ivoire, Dominican Republic, Equatorial Guinea, Germany, Indonesia, Kuwait, Peru, Poland, South Africa。請分別寫出他們的中文國名並指出他們所處的大陸（如美洲、歐洲等）（10 分）；
 - (3) 你（妳）覺得當前聯合國安全理事會 10 個席次依據各大陸分配後再加上五個常任理事國，是否正確反映了各大陸的實力？為什麼？（10 分）。
2. 「六方會談」（10 分）
3. 「印太戰略」（10 分）
4. ASEAN（10 分）

備	註	試題隨卷繳交
---	---	--------

國立政治大學 109 學年度大學個人申請入學招生命題紙

第 1 頁，共 1 頁

考試科目	國際現勢筆試	系別	外交學系	考試時間	四月廿七日 星期一	上午 第一節
------	--------	----	------	------	--------------	-----------

一、選擇題(單選題、共40分、每題5分、答案卷僅標明題號與答案即可)：

- COVID-19係當前人類所面臨之共同安全威脅，而WHO以追求人類最高健康水準為宗旨。至今年四月初春假期間，WHO秘書長為：①Tedros Markel；②Tedros Adhanom Ghebreyesus；③Tedros Mohammed Girma；④Tedros Emmanuel Macron。
- 至今年四月初春假期間，中國國家主席為習近平，請問其國務院總理為：①溫家寶；②汪洋；③李克強；④王岐山。
- 至今年四月初春假期間，馬來西亞首相為：①Mahathir Mohamad；②Najib Razak；③Anwar Ibrahim；④Muhyiddin Yassin。
- 至今年四月初春假期間，以下哪一位未曾出任過北韓勞動黨主席：①Kim Jong-il；②Kim Jong-un；③Kim Il-sung；④Kim Da-jung。
- 至今年四月初春假期間，澳洲總理為：① Scott Morrison；② Julia Gillard；③ Tony Abbott；④ Jacinda Ardern。
- 以下關於聯合國的敘述，何者為誤？①至2020年4月止，共有193個會員國；②共有六大主要機構；③安全理事會共有15個理事國；④聯合國大會七大委員會。
- 以下關於世界銀行的敘述，何者為誤？①世界銀行集團是一個包含有5個國際組織的集團，其總部在日內瓦；②國際復興開發銀行(IBRD)與國際開發協會(IDA)常被合稱為世界銀行；③成員國的表決權按其所占股份的比例不同，目前美國所占份額最多；④世界銀行主要提供長期貸款給受援助國家。
- 以下有關區域性國際組織之敘述，何者正確？①歐洲聯盟於2020年4月，有28個會員國；②東協區域論壇於1967年首次召開，且至今北韓、印度、巴基斯坦皆為對話夥伴；③非洲聯盟前身為非洲團結組織，於2002年改組為非洲聯盟；④中美洲銀行成立於1960年，我國目前9個於中南美洲的邦交國均為其會員國。

二、簡答題(共60分)：

- 美國「自由之家」近年除給予臺灣政治自由度相當高的評比外，另也提出了「銳實力」(sharp power)的看法(30分)：
 - 請問何謂「銳實力」？與「軟實力」及「硬實力」有何不同？後兩者是由哪位學者提出的呢？(15分)
 - 你/妳覺得以「銳實力」來描繪特定國家的對外政策是否合理？其理何在？(15分)
- 「鬥而不破」還是「你死我活」：請問你/妳會選用何者來形容當前美國與中國關係？原因為何？(15分)
- 試論美國總統川普退出巴黎氣候協定之動機及其影響。(15分)

備註	試題隨卷繳交
----	--------

考試科目	國際現勢筆試	系別	外交學系	考試時間	四月二十六日 上午 星期一 第一節
------	--------	----	------	------	----------------------

一、單選題（每題 5 分，共 50 分）

- 請問下列何種組合為構成國家的四個要素？
(1) 人民、領土、國旗、政府 (2) 人民、貨幣、國旗、政府 (3) 人民、領土、政府、主權 (4) 人民、領土、貨幣、主權。
- 請問下列有關恐怖主義的敘述，何者有誤？
(1) 恐怖主義得以綁架的方式進行 (2) 恐怖主義的對象僅能針對政府職員 (3) 恐怖主義主要目的為對民眾產生心理層面的效果 (4) 恐怖主義得以挾持人質的方式進行
- 請問下列有關主權的描述，何者有誤？
(1) 可以分為內部主權與外部主權 (2) 內部主權為國家對國際事務所擁有的至高無上的政治權力 (3) 外部主權意即國家獨立於其他任何權威之外 (4) 主權是構成國家的要素之一
- 一次世界大戰後所建立的國際組織是：(1) 聯合國 (2) 世界展望會 (3) 國際聯盟 (4) 國際貨幣基金會。
- 現任日本首相是？(1) 小泉純一郎 (2) 安倍晉三 (3) 菅義偉 (4) 三島由紀夫。
- 上個月美國國務卿布林肯與中共外事辦公室主任楊潔篪在何地舉辦 2+2 對話？(1) 西雅圖 (2) 華盛頓特區 (3) 安克拉治 (4) 芝加哥。
- 以下哪一個戰爭不是國與國之間的戰爭？(1) 越戰 (2) 韓戰 (3) 福克蘭戰爭 (4) 南北戰爭。
- 美國前總統川普在任內退出許多國際組織(協議)，以下何者為非？(1) 巴黎氣候協定 (2) 聯合國教科文組織 (3) 聯合國人權理事會 (4) 國際民航組織。
- 下列何邦交國在 2019 與中華民國斷交？(1) 吐瓦魯 (2) 索羅門群島 (3) 帛琉 (4) 斐濟。
- 中國大陸在南海積極建設島礁，下列何者是北京與馬尼拉較有爭議島嶼？(1) 永暑礁 (2) 黃岩島 (3) 永興島 (4) 赤瓜礁。

二、簡答題（請對下列題目以兩句話簡要回答。每題 10 分，共 50 分）

- 安全困境(security dilemma)
- 2020 年諾貝爾和平獎得主與其主要貢獻
- 國際關係中的避險策略
- BRI (需寫出中文全名，中文全名全對才算分)
- NATO (需寫出中文全名，中文全名全對才算分)

備註	試題隨卷繳交
----	--------